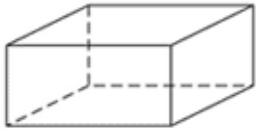


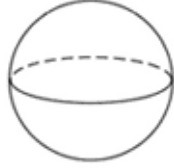
الشكل 1



(A)



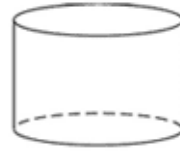
(B)



(C)



(D)



الشكل رقم 1 مخروط. جزء من سطحه مستوي والآخر منحنى . أي من المجسمات أعلاه (المسماة من A الى D) تتكون من سطح مستوي و سطح آخر منحنى ؟

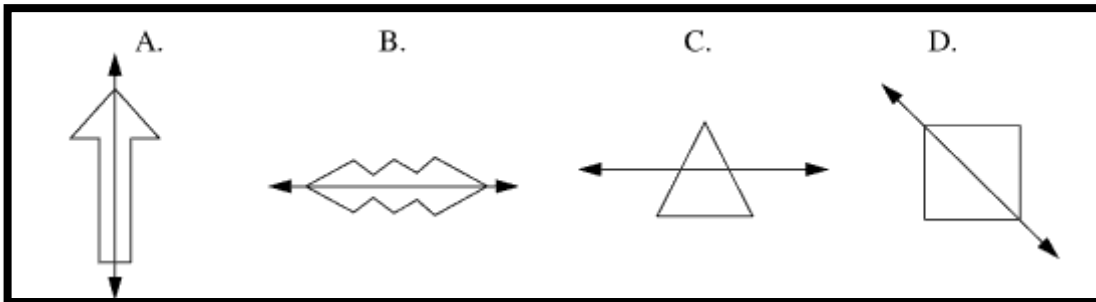
A (1)

B (2)

C (3)

D (4)

(2) أي مما يلي الخط المرسوم لا يمثل محور تناظر للشكل ؟



(3)

اشترك جاسم في سباق للدرجات الهوائية . الرقم التالي مكتوب على قميصه
أي الاعداد التالية اكبر من العدد المكتوب على قميصه ؟







680 (1)

765 (2)

697 (3)

739 (4)

(4) التمثيل بالمصورات التالي يبين عدد السيارات في موقف مدرسة للسيارات لمدة أربعة ايام

| عدد السيارات | اليوم |
|---|----------|
|  | الاثنين |
|  | الثلاثاء |
|  | الأربعاء |
|  | الخميس |

| المفتاح |
|---|
|  = 5 سيارات |

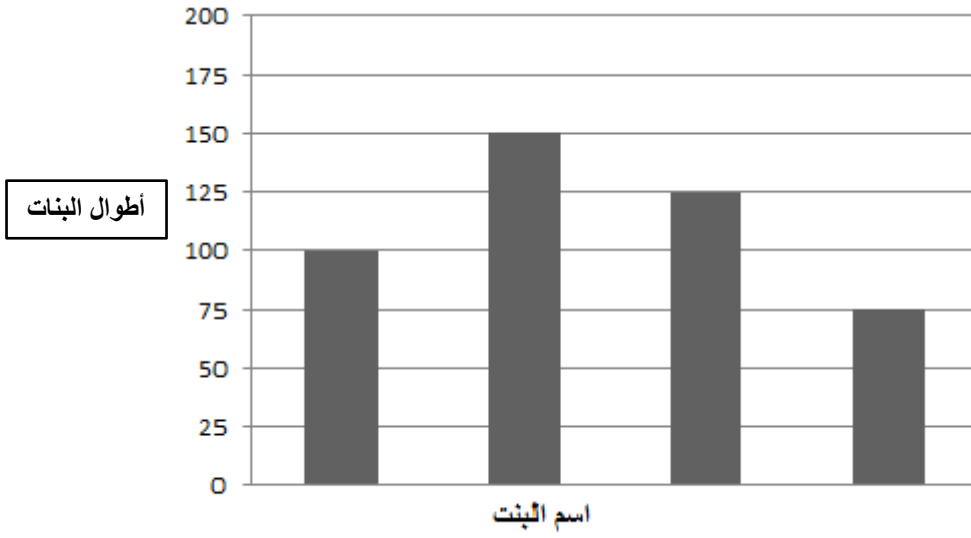
عدد السيارات المتوقفة في يوم الاثنين التي تزيد عن عدد السيارات المتوقفة يوم الاربعاء هو

3 (1)

5 (2)

15 (3)

20 (4)



5) يبين الرسم البياني أطول أربع بنات . الأسماء مفقودة من الرسم البياني.
ريم هي الأطول. إيمان هي الأقصر.
اسماء أطول من سارة إذأ طول سارة هو

75 cm (1)

100 cm (2)

125 cm (3)

150 cm (4)