



# الاختبار التجريبي 2016 – 2015

## الرياضيات

### الصف الثالث

Copyright © 2016 by the Ministry of Education and Higher Education, State of Qatar. All rights reserved.

This publication may not be reproduced in whole or in part without written permission of the Ministry of Education and Higher Education, State of Qatar.

جميع حقوق التأليف محفوظة لوزارة التعليم والتعليم العالي، قطر.  
لا يجوز إعادة طبع أو استخدام كل أو أي جزء من هذا الكتاب بدون الموافقة المكتوبة لوزارة التعليم والتعليم العالي، قطر

تعليمات : عند الإجابة على الأسئلة من 1 إلى 12، ضع علامة X على الرمز المجاور للإجابة الصحيحة.

## مثال أ

أوجد ناتج عملية الجمع التالية.

$$1 + 2$$

2  A

3  B

12  C

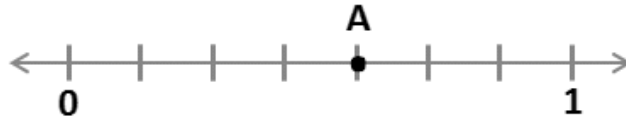
1

ذهب 48 طالباً في رحلة مدرسية، وقد وزعوا على 3 حافلات بالتساوي.  
كم طالب ركب الحافلة الواحدة؟

14  A15  B16  C

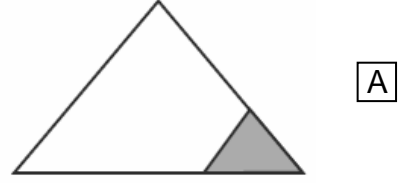
2

ما الكسر الذي تمثله النقطة A ؟

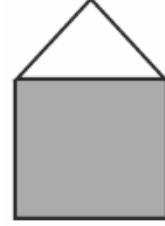
 $\frac{4}{7}$   A $\frac{4}{6}$   B $\frac{4}{5}$   C

3

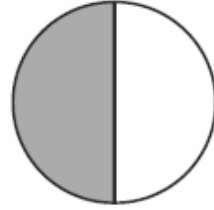
أي الأشكال التالية مظل أكثر من نصفه؟



A



B



C

4

مزرعة فيها أبقار بيضاء وأبقار سوداء،  $\frac{1}{6}$  الأبقار سوداء.

ما الكسر الذي يمثل الأبقار البيضاء؟

$$\frac{1}{6} \quad \text{A}$$

$$\frac{3}{6} \quad \text{B}$$

$$\frac{5}{6} \quad \text{C}$$

اكتب القيمة المنزلية للرقم الذي تحته خط في العدد 357

5

5  A

50  B

500  C

يريد سالم أن يرتب الأعداد 23, 203, 233, 230

6

أي ترتيب هو الصحيح من الأكبر للأصغر؟

233, 230, 203, 23  A

23, 203, 233, 230  B

233, 23, 203, 230  C

اجمع  $42 + 16 + 32$

7

80  A

88  B

90  C

اكتب حقيقة ضرب تعبر عن الشبكة.

8


3 x 4  A

3 x 3  B

4 x 4  C

ما باقي القسمة للعملية  $34 \div 8$  ؟

9

1  A

2  B

3  C

ما التقدير الأنسب لوزن حبة الشمام؟

10

8 g  A

800 g  B

80 kg  C

مُثلت أعداد الحيوانات في الحديقة بالأعمدة البيانية أدناه.

11



كم عدد الحيوانات في الحديقة؟

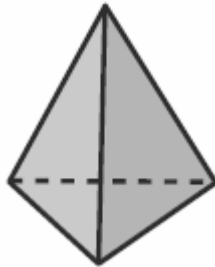
32  A

34  B

36  C

ما عدد الأحرف للهرم الثلاثي المرسوم أدناه؟

12



3  A

4  B

6  C

تعليمات: عند الإجابة على الأسئلة من 13 إلى 20 اكتب إجابتك في الفراغ المخصص للإجابة.

مثال ب

أوجد مجموع الأعداد من 1 إلى 6

وضّح عملك هنا.

$$1 + 2 + 3 + 4 + 5 + 6 = 21$$

الإجابة: 21



سجل عبدالله ألوان سمك الزينة في حوض السمك في الجدول التالي.

ألوان سمك الزينة			
زرقاء	صفراء	حمراء	حمراء
حمراء	حمراء	زرقاء	صفراء
صفراء	سوداء	حمراء	صفراء
سوداء	زرقاء	سوداء	زرقاء

A. نظم هذه البيانات بلوحة الإشارات أدناه.

ألوان سمك الزينة		
اللون	الإشارات	العدد
زرقاء		
حمراء		
صفراء		
سوداء		

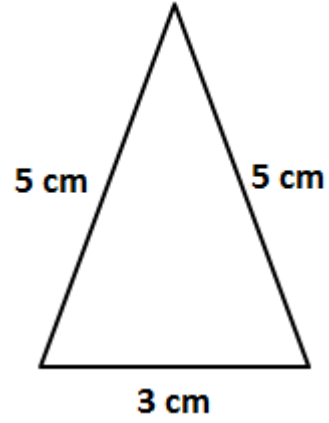
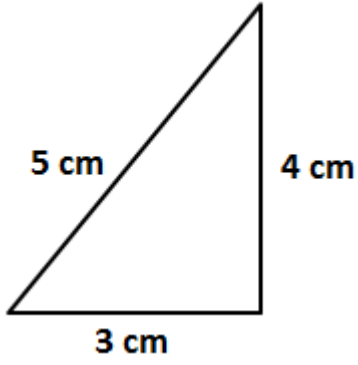
B. كم عدد الأسماك ذات اللون الأزرق و الأسماك ذات اللون الأصفر في حوض السمك؟  
الإجابة: \_\_\_\_\_

C. كم يزيد عدد الأسماك ذات اللون الأحمر على الأسماك ذات اللون الأسود في الحوض؟  
الإجابة: \_\_\_\_\_

أصنف كل مثلث مما يأتي بالنسبة إلى أطوال أضلاعه.

.B

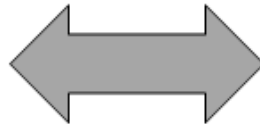
.A



.....

.....

أستعمل المسطرة لرسم خطوط التناظر للأشكال التالية.




A. أكتب جملة الطرح المناسبة للشكل أدناه.



الإجابة: \_\_\_\_\_

B. أكتب جملة الجمع المناسبة للشكل أدناه.



الإجابة: \_\_\_\_\_

انظر إلى الرسم أدناه.



أملأ الفراغات لأكمل الحقائق المترابطة.

A. .... x ..... = .....

B. .... ÷ ..... = .....



C. .... ÷ ..... = .....

غادرت عائلة خالد المنزل الساعة 7:20 صباحاً متجهين إلى حديقة أسباير،  
فوصلوا بعد 45 دقيقة.

وقت المغادرة



وقت الوصول



A. أضبط الساعة واكتب الوقت لتمثيل وقت الوصول.

B. أدى خالد وأسرته صلاة الظهر في مسجد الحديقة الساعة 11 : 30

ما الزمن الذي قضته أسرة خالد في الحديقة إلى صلاة الظهر؟

الإجابة:

---



---

أرسم صورة لحل المسألة التالية.


لدى خالد 12 حبة فراولة، وزعها بالتساوي على 3 من أبنائه.

كم حبة أعطى كل واحد منهم؟

وضّح عملك هنا.

الإجابة:

أنظر إلى الشكل أدناه.



A. أكون مجموعات في كل منها 5 ورقات شجر.

B. كم عدد المجموعات؟

الإجابة: \_\_\_\_\_

C. أكتب عبارة القسمة.

الإجابة: \_\_\_\_\_