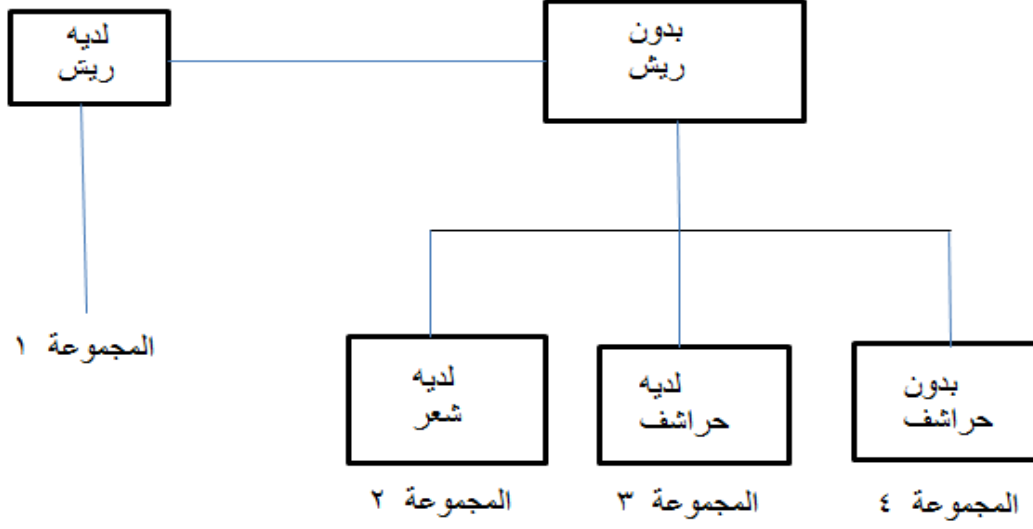



1- انظر إلى المخطط الآتي :



اي من هذه الكائنات ينتمي إلى المجموعة الثالثة ٣




2- ما الكائن الحي الذي ينتج غذاءه بنفسه ؟

أ - القط

ب - الطيور

ج - الجندب

د - نبتة الهندباء



3- أي من المواد الآتية سوف يذوب في الماء أسرع ؟

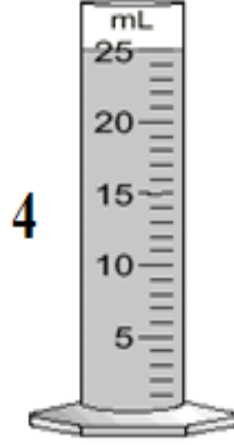
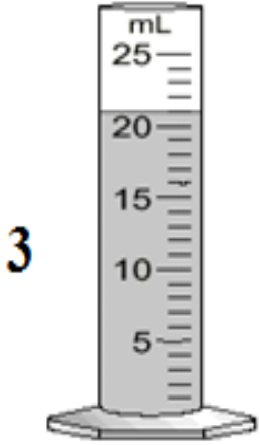
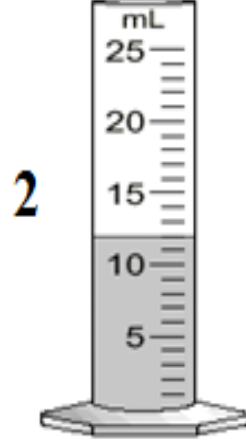
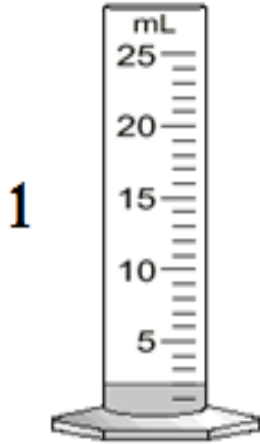
أ- الرمل

ب- القصدير

ج- الملح

د- الخشب

4- تريد دانه قياس 12 مليلتر من الماء لتجربتها. أي الاسطوانات (المخبار المدرج) يبين كمية الماء التي تحتاجها؟



5- ما كتلة الضفدع المبين في الشكل الآتي :

أ- 39 غرام

ب- 40 غرام

ج- 41 غرام

د- 42 غرام

